

# 2017年浙江省初中毕业升学考试(温州市卷)

## 试题、参考答案

二〇一七年六月

### 目 录

社会·思品试题 .....	2
语文试题 .....	6
数学试题 .....	10
科学试题 .....	13
英语试题 .....	19
社会·思品试题参考答案 .....	24
语文试题参考答案 .....	25
数学试题参考答案 .....	26
科学试题参考答案 .....	29
英语试题参考答案 .....	32

# 社会·思品

## 卷 I

一、选择题(本题有 20 小题,每小题 2 分,共 40 分。请选出各题中一个符合题意的正确选项,不选、多选、错选,均不给分。)

1. 2017 年 4 月 1 日,中共中央、国务院印发通知,决定设立 ▲ 新区。这是以习近平同志为核心的党中央作出的一项重大的历史性战略选择。

- A. 浦东                      B. 滨海                      C. 天府                      D. 雄安

2. 2017 年 1 月 20 日, ▲ 在华盛顿宣誓就职,成为美国第 45 任总统。

- A. 特朗普                      B. 希拉里                      C. 奥巴马                      D. 马克龙

3. 全国“最美中学生”王雪莹从小就积极捐款帮助困难儿童,还经常去敬老院看望老人。她希望给那些需要帮助的人插上“隐形的翅膀”,让他们快乐飞翔。王雪莹用行动诠释了

- A. 每个人都应对自己的身心健康负责                      B. 每个人的生命都是独特而脆弱的  
C. 生命的意义在于获取更多的荣誉                      D. 生命的价值在于多为社会作贡献

4. 图 1 中经营者的行为侵犯了消费者的

- ①依法求偿权  
②安全保障权  
③知悉真情权  
④自主选择权

- A. ①②                      B. ①④  
C. ②③                      D. ③④




图 1 “美味”背后

5. 因引诱未成年人吸食毒品,张某被当地人民法院依法判处有期徒刑 3 年并处罚金 1 万元。据此可以判断

- ①张某的行为具有严重的社会危害性                      ②张某侵犯了未成年人的平等权利  
③家长未履行对未成年人的抚养义务                      ④法院依据刑法对张某作出判决

- A. ①②                      B. ①④                      C. ②③                      D. ③④

6. 2017 年 4 月,温州市开通中小学生在在线答疑平台,由名师免费帮助学生解决学习中的困惑。该平台的开通有利于维护广大学生的

- A. 智力成果权                      B. 名誉权                      C. 受教育权                      D. 劳动权

7. 2017 年 3 月 15 日,十二届全国人大五次会议通过了《中华人民共和国民法总则》,为我国公民的社会生活确立了“总规矩”。这说明

- ①全国人大拥有最高立法权                      ②民法总则具有最高的法律效力  
③法律由国家强制力保证实施                      ④我国积极实施依法治国的基本方略

- A. ①②                      B. ①④                      C. ②③                      D. ③④

8. 今年 3 月以来,温州广大青年志愿者积极参与“剿灭劣 V 类水”行动。他们巡查河道,及时将问题和整改建议反馈给政府部门,在治水“剿劣”中释放青春力量。他们的做法

- ①是关爱社会的具体表现                      ②表明公民可直接管理国家大事  
③是依法行使监督权的表现                      ④践行了社会主义核心价值观

- A. ①②③                      B. ①②④                      C. ①③④                      D. ②③④

“可上九天揽月,可下深海探秘”,2017 年我国科技领域硕果累累。回答 9—11 题。

9. 4 月 20 日,我国第一艘货运飞船在海南文昌航天发射场成功发射。其名称为

- A. 天舟一号                      B. 神舟一号                      C. 天宫二号                      D. 嫦娥三号

10. 5 月 5 日,我国首款具有完全自主产权的国产大型客机 C919 在上海首飞成功。十年来,C919 从正式立项到研制生产,项目研发团队坚持“长期奋斗、长期攻关、长期吃苦、长期奉献”,突破了一系列技术难关。从他们身上可以看到

- A. 有一种力量,叫民族团结                      B. 有一种品质,叫宽以待人  
C. 有一种追求,叫和平统一                      D. 有一种精神,叫自强不息

11. 5 月 18 日,我国宣布海域天然气水合物(俗称“可燃冰”)试采成功。可燃冰具有燃烧值高、储藏量大和低污染等特点。未来可燃冰的开发和利用将

- ①降低生产与生活对资源的需求                      ②扩展我国自然资源的开发范围  
③缓解我国自然资源的短缺问题                      ④改变我国资源分布不平衡的状况

- A. ①②                      B. ①④                      C. ②③                      D. ③④

根据图2,回答12-13题。

12. 甲所在的大洲是  
 A. 亚洲 B. 非洲  
 C. 欧洲 D. 大洋洲
13. 下列关于波斯湾地区的描述,正确的是  
 ①地理位置优越 ②石油资源储量丰富  
 ③全年高温多雨 ④居民大多信仰佛教  
 A. ①② B. ①③  
 C. ②④ D. ③④

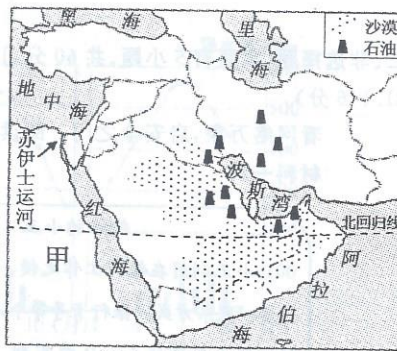


图2 波斯湾地区

14. 下列区域中,其特征与表1描述相符的是  
 A. 东北平原  
 B. 青藏高原  
 C. 珠江三角洲  
 D. 塔里木盆地

表1 某区域自然环境特征

海拔(米)	2~250
1月平均气温(°C)	-24~-9
年降水量(毫米)	350~700

15. 一艘货轮在17°N、112°E附近海域遭遇突发事件。为尽快赶往出事海域,救援船应该从图3中的  
 A. 甲港口出发,向东北方向航行  
 B. 甲港口出发,向东南方向航行  
 C. 乙港口出发,向西北方向航行  
 D. 乙港口出发,向西南方向航行



图3 海南岛

根据小明同学的读书笔记,回答16-18题。

<p>摘记1: 秦置闽中郡,闽越、瓯越属之,郡治设东冶县(今福州市)。——沈克成《温州历史年表》</p>	<p>摘记2: 1919年温州港进口的外国棉花比1918年减少34.1%,日本海带减少60.7%,日本布伞减少24.7%。——摘编自周厚才《温州港史》</p>	<p>摘记3: 抗日战争时期温州侨胞在东南亚和欧洲艰苦谋生,创业之余仍关心祖国命运,宣传抗日救亡,从事募捐活动,并投身到反侵略斗争的行列,作出不朽的贡献。——胡珠生《温州近代史》</p>
--	---	---

16. 摘记1所摘文献可以用来佐证秦朝在地方推行  
 A. 郡县制度 B. 刺史制度 C. 行省制度 D. 改土归流
17. 最有可能导致摘记2所述现象出现的原因是  
 A. 中国近代工业诞生,国货增多  
 B. 北洋军阀割据混战,政局动荡  
 C. “五四”爱国运动影响,抵制洋货  
 D. 中日之间爆发战争,贸易受阻
18. 下列中国取得抗日战争胜利的原因中,可以由摘记3推断得出的是  
 A. 中国战略部署得当  
 B. 世界反法西斯力量的援助  
 C. 国共两党携手抗敌  
 D. 海内外中华儿女同仇敌忾
19. 中国共产党通过艰难的探索,到1930年上半年,逐步解决了大革命失败后中国革命的道路问题。这一道路的主要内容有  
 ①打倒帝国主义列强 ②农村包围城市 ③建立敌后抗日根据地 ④武装夺取政权  
 A. ①② B. ①③ C. ②④ D. ③④
20. 新中国成立后,中华民族走上了伟大复兴的新道路。以下纪念邮票所反映的新中国辉煌成就,按时间先后顺序排列正确的是



- ① ② ③ ④  
 A. ①④②③ B. ②④①③ C. ③②①④ D. ④①③②

## 卷 II

### 二、非选择题(本题有 5 小题,共 60 分。)

21. (16 分)

看网络万象,启安全之门。阅读材料,回答问题。

材料一:

**糊涂的小王**

小王利用在银行工作之便,收集客户的姓名、联系方式、银行卡号等个人信息,并通过网络出售给他人,从中获利。结果导致客户不断地受到电话、短信等骚扰,甚至个别客户银行卡被盗刷,损失惨重。

**倔强的小胡**

小胡是某共享单车软件研发公司的负责人。他在前期测试中发现自己设计的产品有漏洞,可能会造成用户个人信息的泄露。共享单车公司再三要求他先将产品投放市场再逐步改进,都被小胡以“宁愿少赚钱,也要守底线”为由断然拒绝。

材料二:今年 6 月 1 日起实施的《中华人民共和国网络安全法》规定:任何个人和组织不得窃取或者以其他非法方式获取个人信息,不得非法出售或者非法向他人提供个人信息。违反该条规定,尚不构成犯罪的,由公安机关没收违法所得,并处违法所得一倍以上十倍以下罚款,没有违法所得的,处一百万元以下罚款。

- (1)小王的“糊涂”导致客户的哪些权利受到了侵犯?(4 分)
- (2)从道德角度评析小胡的行为。(4 分)
- (3)根据材料一、二,说明《中华人民共和国网络安全法》实施的必要性。(4 分)

材料三:

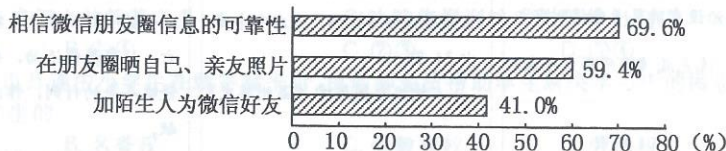


图 4 青少年网络安全素养调查统计

- (4)结合材料二、三,为青少年合理利用网络提两条建议。(4 分)

22. (10 分)

再出发,奔向全面小康标杆省。浙江,正以勇立潮头的姿态,拥抱这个伟大的时代。

【“浙”里开放谱新篇】

表 2 2016 年浙江省国民经济和社会发展统计数据(部分)

项目	数量	比上年增长	项目	数量	比上年增长
货物进出口总额	22202 亿元	3.1%	新批外商直接投资项目	2145 个	367 个
服务贸易进出口额	3173 亿元	15.2%	国外经济合作完成营业额	474 亿元	16.9%

- (1)根据材料概括 2016 年我省国民经济发展的特点。(2 分)

【“浙”里产业正转型】近年来,我省企业主动采取措施推进转型发展,取得良好效益。如 A 企业,每年派出多名员工到国内外科研院所、先进企业学习培训;投入高达 4000 万元的资金,用于技术改造和产品研发。目前 A 企业已拥有 512 件专利,其自主研发制造的 200 多台自动化设备,使企业的组装人员减少了 1000 多人,产值却增长了 1.5 个亿。

- (2)以 A 企业为代表的浙江企业为何能推进转型发展?(4 分)

【“浙”里民生再改善】2017 年,我省将新增城镇就业 80 万人,重点解决好群众的就业问题;适时适度上调最低工资标准,促进城乡居民收入持续平稳增长;积极推进养老保险制度改革,稳步提高退休人员的养老金标准。

- (3)结合所学知识,分析上述举措对社会发展的重要意义。(4 分)

23. (10分)

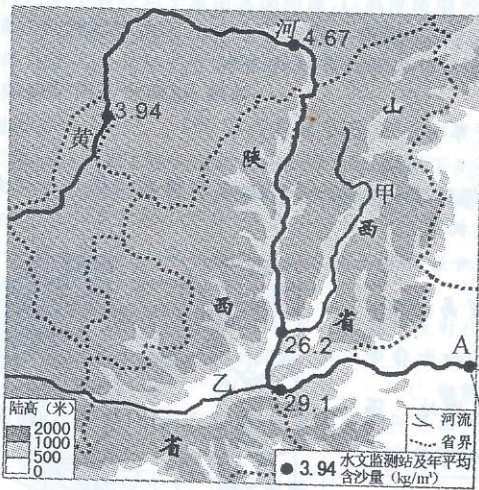


图5 我国某区域简图

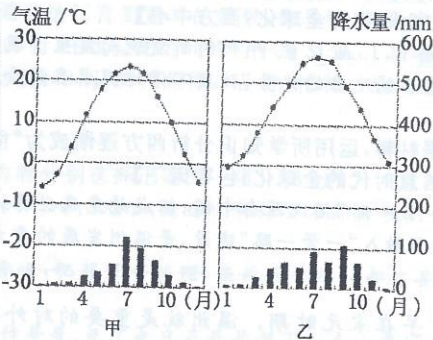


图6 甲乙两地的气温与降水量

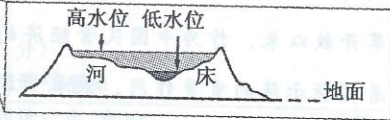


图7 A地河床剖面

- (1)据图6判断,图7中高水位应出现在 ▲ (填“冬季”或“夏季”)。(2分)
- (2)甲、乙两地为我国重要的农业生产区,据图分析两地农业发展共同的优势条件。(4分)
- (3)近年来陕西、山西两省都大力实施退耕还林、还草工程,据图说明该措施的合理性。(4分)

24. (10分)

揖美追欧民主风,旧邦新造共和路。民族独立和自由民主不仅是人类奋斗的崇高理想,更是近代中国民主革命的光荣使命。

材料一:

美国历史文献	主要思想渊源
1776年《独立宣言》称:“政府的正当权力,则是经被统治者同意所授予的。任何形式的政府一旦对这些目标的实现起破坏作用时,人民便有权予以更换或废除,以建立一个新的政府。”	卢梭的“人民主权”理论
1787年《美利坚合众国宪法》摘录:本宪法所授予之立法权,均属于由参议院与众议院组成的合众国国会。……行政权属于美利坚合众国大总统。……司法权属于最高法院及国会随时制定与设立的低级法院。	▲

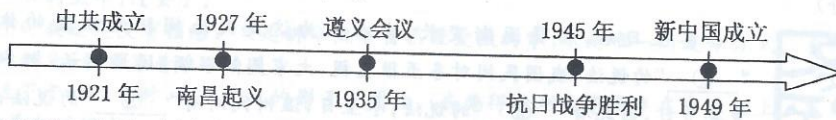
- (1)完成表格内容,并指出美国革命与启蒙运动之间的联系。(4分)

材料二:华盛顿及其领导的美国革命成为近代中国进步人士心目中的理想和榜样。1901年《独立宣言》被首次翻译并发表在《国民报》上;1903年革命者陈天华疾呼“要学那,美利坚,离英自立”;1912年《中华民国临时约法》仿效美国宪法,确立了资产阶级民主共和的国家体制。

——摘编自人教版高中历史选修教材《近代社会的民主思想与实践》

- (2)为什么美国革命成为进步人士心目中的理想和榜样?联系近代中国的社会状况予以分析。(4分)(要求:逻辑严密,表述简洁)

材料三:伟大的中国人民从未停止探索复兴道路的步伐,经过艰苦卓绝地奋斗,终于取得了新民主主义革命的胜利,实现了民族独立和人民解放。



- (3)选择年代尺中的任一历史事件,说明其对中国革命进程的影响。(2分)

25. (14分)

丝路延绵连山海,古道新程谋共荣。从“凿空西域”到“一带一路”,世界从分散走向整体,全球联系日益加强。(“一带一路”指丝绸之路经济带和21世纪海上丝绸之路)

【农耕时代的全球化:东西互鉴】

(马可·波罗来华、郑和下西洋等)这些开拓事业之所以名垂青史,是因为使用的不是战马和长矛,而是驼队和善意;依靠的不是坚船和利炮,而是宝船和友谊。

——摘自习近平《在“一带一路”国际合作高峰论坛开幕式上的演讲》

(1)材料反映了古代中外交往有何特点?(2分)

【工业时代的全球化:西方中心】

世界因15世纪90年代的新发现而发生了变化:西方逐渐成为世界中心。西方国家利用它们在工业技术、政治制度上的优势,孜孜不倦地探求在这个全新时代寻求霸权的道路。

——摘编自《西方大国崛起的条件》等

(2)根据材料,运用所学知识分析西方逐渐成为“世界中心”的历史条件。(6分)

【信息时代的全球化:包容天下】

“一带一路”倡议源自中国,但成效惠及世界,得到了全球100多个国家和国际组织的积极支持和参与。全面融入“一带一路”建设,是温州发展的重大机遇。

早在宋元时期,温州就是重要的对外贸易港口,温州商人的足迹已遍及东亚、东南亚、西亚和北非等地。改革开放以来,作为中国民营经济的发源地,温州发挥着创新示范的重要作用。秉承“敢为人先,吃苦耐劳”的精神,温州人建立起覆盖全国、连接世界的市场营销网络。近年来,温州机场、状元港区的升级,24条国际航线的增添,杭温铁路义乌与温州段的开工建设等,为温州经济的腾飞插上新的翅膀。

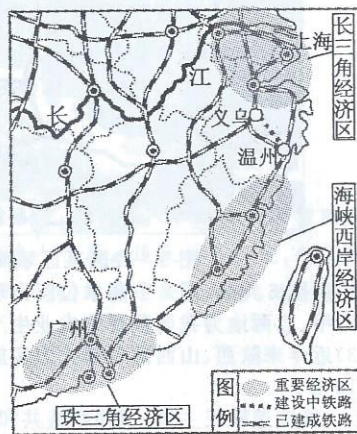


图8 中国东南沿海地区

(3)结合材料,阐述温州应如何凭借自身优势更好地融入“一带一路”建设。(6分)

语 文

一、语文知识积累(25分)

1.二十四节气,是中国人诗意的创造。根据要求,完成(1)(2)题。(7分)

(1)读下面这段文字,根据拼音写出相应的汉字。(4分)

夏至

鹿角解,蝉始鸣,半夏生

木槿花开,瓜豆满架,稻穗挂地

沏茶熏香,听夏虫(yín) ① 唱

小巷(yōu) ② 深,院子里(fán) ③ 星点点

凉荫下,或是藤椅或是竹席

奶奶的大葵扇,缓缓摇起阵阵清风,助人(hān) ④ 眠

宵漏夜短

夏梦正长

(2)冬至是二十四节气之一,也是我国传统节日。关于冬至有很多俗语,根据语境,在横线上填写正确的选项。(3分)



冬至日后,白昼逐渐变长,古人认为这是天地间阳气恢复的体现,所以有“①”的说法;我国民间对冬至很重视,大家围炉温酒,团聚闲话,把冬至当作一个重要节日,因此有“②”的说法;冬至日,温州民间有“③”的说法,在这一天给孩子吃汤圆,教导孩子一切事情都要比去年做得更好。

A.冬至大如年 B.过了冬至大一岁 C.冬至一阳生

2.古诗文名句默写。(10分)

(1)桃花流水窅然去, ▲。(李白《山中问答》)

(2)▲,千万和春住。(王观《卜算子·送鲍浩然之浙东》)

(3)子曰:“知者不惑,▲,勇者不惧。”(《论语·子罕》)

(4)醉翁之意不在酒,▲。(欧阳修《醉翁亭记》)