

# 社会·思品

## 卷 I

一、选择题(本题有 20 小题,每小题 2 分,共 40 分。请选出各题中一个符合题意的正确选项,不选、多选、错选,均不给分。)

- 2015 年 11 月 7 日,中共中央总书记、国家主席习近平同台湾方面领导人 ▲ 在新加坡会面。双方认为应该继续坚持“九二共识”,推动两岸关系和平发展。  
A. 洪秀柱                      B. 马英九                      C. 朱立伦                      D. 宋楚瑜
- 2015 年 12 月 16 日至 18 日,第二届世界互联网大会在浙江 ▲ 举行。互联网已成为推动我国经济转型升级的重要力量和引擎。  
A. 杭州                      B. 南浔                      C. 宁波                      D. 乌镇
- 2016 年 3 月 16 日,十二届全国人大四次会议表决通过了《中华人民共和国 ▲ 》。该法将于今年 9 月 1 日起施行,以此开启中国依法治“善”时代。  
A. 教育法                      B. 反家庭暴力法                      C. 慈善法                      D. 食品安全法
- “要了解自己,最好问问别人。”这句谚语启示我们要通过  
A. 自我评价认识自己  
B. 他人评价认识自己  
C. 兴趣爱好认识自己  
D. 外在体征认识自己




图 1 “我的身份证号怎么上网了!”

- 图 1 漫画中,网上信息发布者的行为侵犯了“我”的  
A. 姓名权  
B. 荣誉权  
C. 隐私权  
D. 名誉权
  - 从 2016 年下半年开始,浙江省将对义务教育阶段学校的家庭经济困难寄宿生,给予每人每年 1000 元(小学)或 1250 元(初中)的生活费补助。这一补助政策  
①体现了社会的公平正义                      ②有利于保障公民的受教育权  
③体现了社会主义按劳分配要求                      ④有利于对未成年人实施司法保护  
A. ①②                      B. ①③                      C. ②④                      D. ③④
  - 刘先生因购买的智能手机出现质量问题而前往商家讨要说法。他不但没有享受到应有的售后服务,反被嘲讽“智商太低,不配使用智能手机”。该商家的行为  
①损害了自身的商业信誉                      ②具有严重的社会危害性  
③侵犯了消费者的自主选择权                      ④侵犯了消费者的人格尊严权  
A. ①②                      B. ①④                      C. ②③                      D. ③④
  - 2016 年全国“两会”召开前,中国政府网等发起“我向总理说句话”活动。截至 3 月 1 日,共收集到 6 万多条留言,其中近 600 条建议被转交到政府工作报告起草组。这一活动  
①体现了公民依法行使监督权                      ②说明人民享有管理国家事务的权利  
③表明公民享有社会经济权利                      ④有利于公民依法参与国家政治生活  
A. ①②③                      B. ①②④                      C. ①③④                      D. ②③④
- 以“敢为天下先”著称的温州人,总是能给我们带来惊喜。回答 9—11 题。
- 【从无到有】温州市第十二届人大常委会第三十二次会议通过的《温州市市容和环境卫生管理条例》,自 2016 年 3 月 1 日起施行。这是温州市首部地方性法规。该条例的通过说明  
A. 法律比道德更重要                      B. 政府要加强立法工作,提高立法质量  
C. 依法治市迈出坚实一步                      D. 地方性法规与宪法具有同等法律效力
  - 【从小到大】中国 H 集团是温州一企业家在 1991 年投资 50 万元创办发展起来的大型企业,现有员工近万人,多次入围中国民营企业 500 强。下列关于 H 集团发展壮大的说法,不正确的是  
A. 得益于我国改革开放政策                      B. 依靠国家的鼓励、支持和引导  
C. 对扩大就业具有重要作用                      D. 对我国经济发展起着主导作用
  - 【追求卓越】温州大学李校堃教授带领 150 多人组成的研究团队,齐心协力,勇于创新。他们参与的一项科研成果,获得了 2015 年度国家科技进步奖一等奖。这说明  
A. 合作是事业成功的基础                      B. 只要有竞争就一定能取得研究的突破  
C. 集体利益要服从个人利益                      D. 个人只要依靠集体就会有美好的前程

12. 小李同学学习《众多的河湖》一课时,在“世界主要河流”图中的亚马孙河旁标注了“热带雨林气候”。从这一正确标注中可以看出该河流具有的特点是

- A. 河段长      B. 水量大      C. 流速快      D. 含沙量大

陕西是中华文明的发祥地之一,西安是享誉世界的历史文化名城。结合图2,回答13—15题。

13. 下列对陕西自然环境描述正确的有

- ①地形种类单一      ②地势南、北高,中部低  
③高原山地面积广大      ④关中平原位于南方地区  
A. ①②      B. ①④  
C. ②③      D. ③④



图2 陕西的地形分区

14. 陕北高原地域特征显著,体现其特征的有

- ①窑洞内冬暖夏凉      ②信天游高亢奔放  
③高原上牦牛成群      ④黄土地千沟万壑  
A. ①②③      B. ①②④  
C. ①③④      D. ②③④

15. 西安碑林博物馆陈列着一方《峯(yi)山刻石》。这方刻石刻有“皇帝立国……灭六暴强……壹家天下……”。该内容称颂的皇帝是

- A. 秦始皇      B. 汉武帝      C. 唐太宗      D. 宋太祖

16. 1689年通过的《权利法案》,为现代英国政治制度的形成打下重要基础。这主要是因为该法案

- A. 制约了国王的权力      B. 宣告了国家独立  
C. 开启了工业化进程      D. 确立了共和政体

17. “这一运动的领袖们将理性应用于经济、宗教和政治等领域,提出自由、平等的思想,使法国乃至整个欧洲的旧制度受到猛烈的抨击。”下列人物中属于这场运动的领袖是

- A. 达·芬奇      B. 哥白尼      C. 伏尔泰      D. 拿破仑

18. “‘民国’之取代自秦以来两千多年的‘帝国’,是一种前无古人的变化。”导致这一变化的历史事件是

- A. 洋务运动      B. 戊戌变法      C. 辛亥革命      D. “五四”运动

19. 阅读书籍,是学习历史的重要途径。要了解国共两党第一次合作期间的历史信息,下列书籍中最适合的是



A



B



C



D

20. “全面实施一对夫妇可生育两个孩子政策”,是我国人口与生育政策的又一次历史性调整。这一政策调整表明我国

- ①人口已经出现了负增长      ②积极应对人口老龄化问题  
③人口素质整体还比较低      ④重视保持合理人口增长速度  
A. ①③      B. ①④      C. ②③      D. ②④

## 卷 II

二、非选择题(本题有5小题,共60分)

21. (8分)

材料一:




图3 “没卡,不敢扶”

请您扶我

姓名: XXX      照片

住址: XXX

手机: XXX

病史: XXX

声明: 被扶者出现任何后果  
均与扶者无关。

××街道办事处

图4 “扶我卡”

材料二:2015年10月,网络支付平台Z公司推出一款“扶老人险”,一年保费3元。如果发生“好心扶老人被讹诈”的情况,扶人者最高可获得2万元的法律诉讼费用赔偿。

(1)材料一反映了当前社会存在什么问题?从珍爱生命角度,点评图3中男青年的言行。(4分)

(2)“扶老人险”的推出,引发了社会广泛争议。小刚同学从维权角度表示支持推出“扶老人险”,小亮同学从责任角度表示反对。请你分别替他俩说出理由。(4分)

22.(8分)

据报道,某地一位女司机因不满交警对自己违停车辆进行拍照取证,一气之下驾车冲撞交警,造成其身体多处擦伤。事后她深感后悔。幸好该交警伤势并无大碍,警方依据《中华人民共和国治安管理处罚法》对女司机处以行政拘留3天的处罚。

(1)女司机的行为属于哪一种违法行为?侵犯了他人什么权利?(4分)

(2)有网友感叹“女司机的一时冲动,教训深刻啊!”请运用所学知识,谈谈应吸取的“教训”有哪些?(4分)

23.(14分)

“十二五”期间,温州围绕“赶超发展、再创辉煌”战略目标,打出了一系列改革发展“组合拳”,各项事业取得显著成效。

材料一:2015年温州实现地区生产总值(GDP)4619.84亿元,按可比价计算,比上年增长8.3%,增速居全省第3位,创四年新高,全市居民人均可支配收入比上年增长8.9%。

材料二:温州市治水亦晒出一份2015年度“五水共治”成绩单:温州创建省级示范生态河道、新建滨水公园等多项指标位居全省第一。从黑臭河整治、城乡污水治理,到防洪排涝工程、水乡文化提升,五年来越来越多的温州市民感受到“治水”带来的新变化。

2016年是温州“十三五”开局之年,但要把温州打造为“迈入全面小康社会标杆城市”,温州的社会经济发展还存在着诸多短板。

材料三:

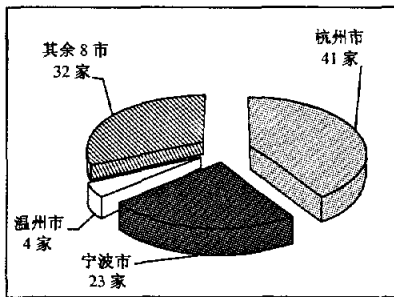


图5 2015年浙江省技术创新能力百强企业分布

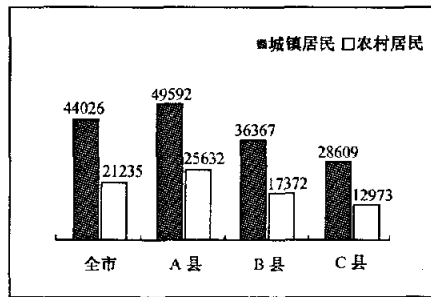


图6 2015年温州市及部分县(市、区)常住居民人均可支配收入(元)

根据上述材料,运用所学知识,回答下列问题:

**【晒亮点】**

(1)根据材料一、二,分别概括温州市“十二五”期间取得的成就。(4分)

**【找不足】**

(2)材料三反映了温州市在社会经济发展中存在哪些短板?(4分)

**【补短板】**

(3)针对材料三所反映的短板,你认为应采取哪些措施?并写出相应的理论依据。(6分)

24.(14分)

拜城县是温州市对口支援地区。为了解拜城,某校历史与社会学习小组查阅了有关资料。让我们一起来了解拜城吧!

注:自然保留地是指目前还未利用的土地,包括荒草地、沙漠等。

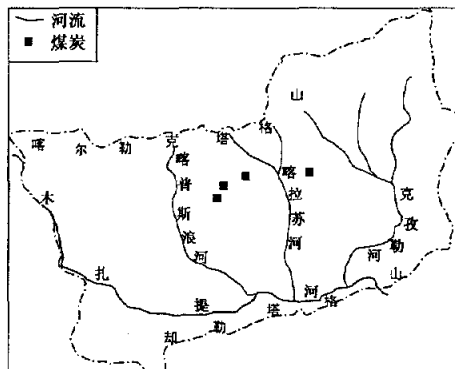


图7 拜城县部分资源分布

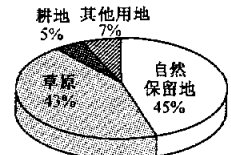


图8 拜城县的土地利用



图9 拜城县的地理位置

### 探究一：拜城在哪里

(1)拜城县位于\_\_\_\_\_▲\_\_\_\_\_ (省级行政区)西南部。(2分)

(2)拜城县位于\_\_\_\_\_▲\_\_\_\_\_。(2分)

### 探究二：区域的发展

(3)根据上述图表分析拜城县自然条件对其经济发展的影响。(6分)

### 探究三：利用与保护

就拜城县自然保留地的利用问题,学习小组内意见不一。

观点一:拜城县自然保留地面积大,应该大力开发以发展经济。

观点二:环境问题大多因人类开发利用所致,因此拜城县的自然保留地要保持原貌,不能开发。

(4)请你任选其中一种观点进行评析。(4分)

25. (16分)

“和合”思想是中国传统文化的精髓。实现中华民族伟大复兴,是近代以来中国人民最伟大的梦想。当代中国走怎样的发展道路,引起了国际社会的广泛关注。

材料一:他率领的船队,在二十八年中到达三十多个国家和地区,受到普遍的欢迎。在榜葛刺,国王派大臣率几千人马到港口迎接,并陪到王宫。双方互赠礼物后,国王设宴招待。

——摘编自樊树志《国史概要》

(1)材料一反映了中外交往的哪一史实?(2分)

材料二:1840年,在炮口的逼迫下,中国蹒跚地走入近代。随后的一百余年里,外国人通过条约“合法”地剥夺榨取、管束控制中国,驱使中国社会脱出常轨,改道变形。不仅使中国人民从此陷入苦难的历程,也促进中国人民觉醒和奋起。

——摘编自陈旭麓《近代中国社会的新陈代谢》等

(2)“在炮口的逼迫下”,近代中国社会性质发生了怎样的变化?“中国人民觉醒和奋起”表明近代中国历史的主题是什么?(4分)

材料三:抗日战争的胜利,在中国近代历史上所占的地位实在太重要了。它成为中华民族从衰败走向复兴的重要枢纽。中国是世界反法西斯主要战场之一,中国抗日战争受到了国际社会的肯定和尊重。

——摘编自金冲及《二十世纪中国史纲》

(3)根据材料三,说明抗日战争的胜利“成为中华民族从衰败走向复兴的重要枢纽”的理由。(4分)

材料四:新中国成立以来,中华民族在寻求复兴之路上开启了新的征程。

- ▲ 1955年,在亚非会议上,中国政府“求同存异”的方针,得到了众多亚非国家的响应。
- ▲ 1978年至2011年,中国国内生产总值年均实际增长率为9.8%,是同期世界经济年均增长率的三倍多,经济总量已跃居全球第二。
- ▲ 2013年,中国对世界经济的贡献率由1978年的2.3%上升到近30%。中国与“一带一路”国家的贸易额超过1万亿美元,彼此互惠互利,共享发展成果。
- ▲ 2015年,中国向联合国赠送“和平尊”。联合国秘书长潘基文表示,感谢中国为世界和平与发展事业所作的贡献。

(4)“中国走和平发展道路有着历史与现实的必然性。”结合材料一至材料四,运用所学知识加以论证。(6分)

(要求:史论结合,论证严密。)